




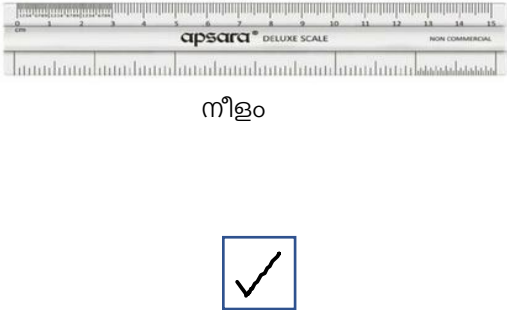
ജില്ലയുടെ പേര് : പാലക്കാട്
ബി. ആർ. സിയുടെ പേര് : ഷൊർണൂർ

സ്റ്റാൻഡേർഡ്	: 6
വിഷയം	: ഗണിതം
യൂണിറ്റ്	: 4
പാഠം	: വ്യാപ്തം
വർക്ക് ഷീറ്റ് നമ്പർ	: 01

വൈറ്റ് ബോർഡ് ഷീറ്റ്

ആരംഭം / തുടർച്ച / അവസാനം

താഴെ കാണുന്നവയിൽ നിന്നും നീളം അളന്നു നോക്കി വലുത് ഏതെന്നു കണ്ടെത്തി ചെയ്യൂ.






ജില്ലയുടെ പേര് : പാലക്കാട്
ബി. ആർ. സിയുടെ പേര് : ഷൊർണൂർ

വൈറ്റ് ബോർഡ് ഷീറ്റ്

സ്റ്റാൻഡേർഡ് : 6
വിഷയം : ഗണിതം
യൂണിറ്റ് : 4
പാഠം : വ്യാപ്തം
വർക്ക് ഷീറ്റ് നമ്പർ : 02

ആരംഭം / തുടർച്ച / അവസാനം

താഴെ കാണുന്നവയിൽ നിന്നും വീതി അളന്നു നോക്കി വലുത് ഏതെന്നു കണ്ടെത്തി ചെയ്യൂ.



നീളം

വീതി



നീളം

വീതി



നീളം

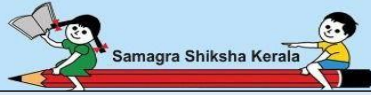
വീതി



നീളം

വീതി





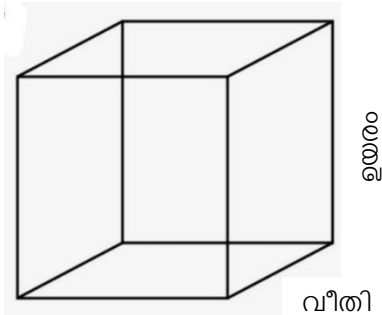
ജില്ലയുടെ പേര് : പാലക്കാട്
 ബി. ആർ. സിയുടെ പേര് : ഷൊർണൂർ

സ്റ്റാൻഡേർഡ്	: 6
വിഷയം	: ഗണിതം
യൂണിറ്റ്	: 4
പാഠം	: വ്യാപ്തം
വർക്ക് ഷീറ്റ് നമ്പർ	: 03

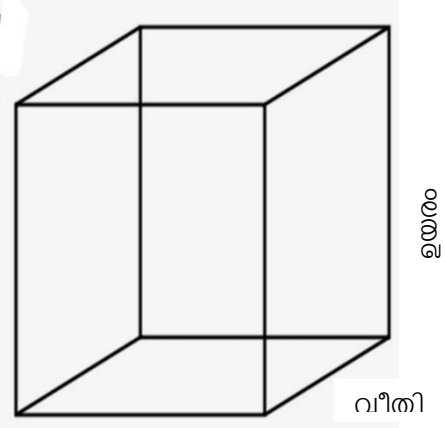
ആരംഭം / തുടർച്ച / അവസാനം

വൈറ്റ് ബോർഡ് ഷീറ്റ്

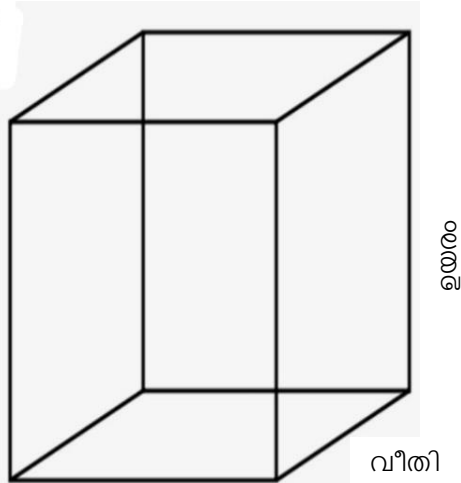
താഴെ കാണുന്നവയിൽ നിന്നും ഉയരം അളന്നു നോക്കി വലുത് ഏതെന്നു കണ്ടെത്തി ചെയ്യൂ. വലുതിന് ഇഷ്ടമുള്ള നിറം നൽകൂ.



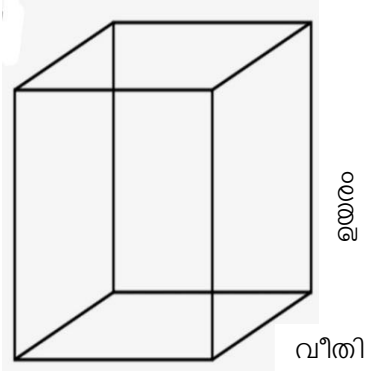
നീളം



നീളം

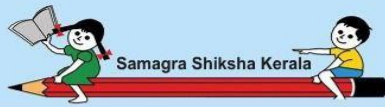


നീളം



നീളം





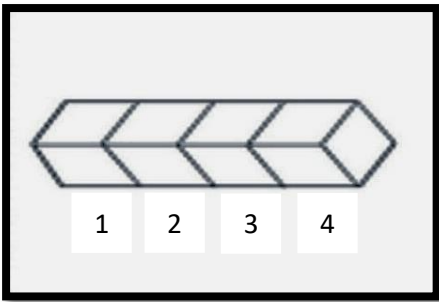
ജില്ലയുടെ പേര് : പാലക്കാട്
ബി. ആർ. സിയുടെ പേര് : ഷൊർണൂർ

സ്റ്റാൻഡേർഡ് : 6
വിഷയം : ഗണിതം
യൂണിറ്റ് : 4
പാഠം : വ്യാപ്തം
വർക്ക്ഷീറ്റ് നമ്പർ : 04

വൈറ്റ് ബോർഡ് ഷീറ്റ്

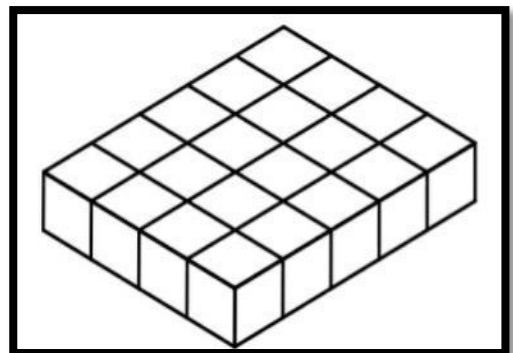
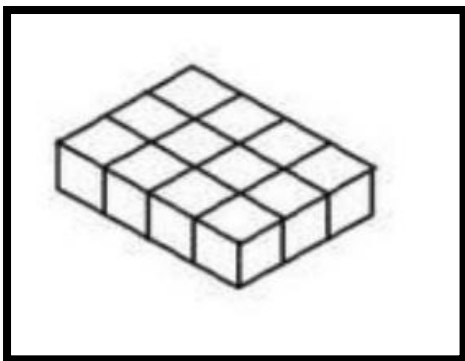
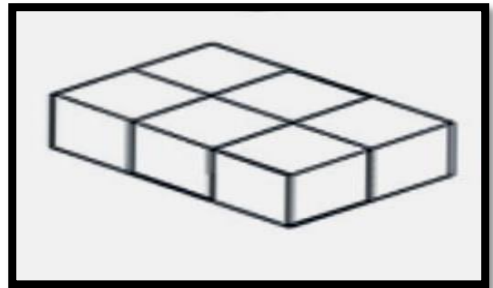
ആരംഭം / തുടർച്ച / അവസാനം

താഴെ തന്നിരിക്കുന്ന ചതുരക്കട്ടകളിലെ ചെറിയ കട്ടകൾ എണ്ണിനോക്കി താഴെയുള്ള ബോക്സിൽ എഴുതൂ. ഓരോ ചതുരക്കട്ടയും നിറം നൽകി ഭംഗിയാക്കൂ.



1 2 3 4

4






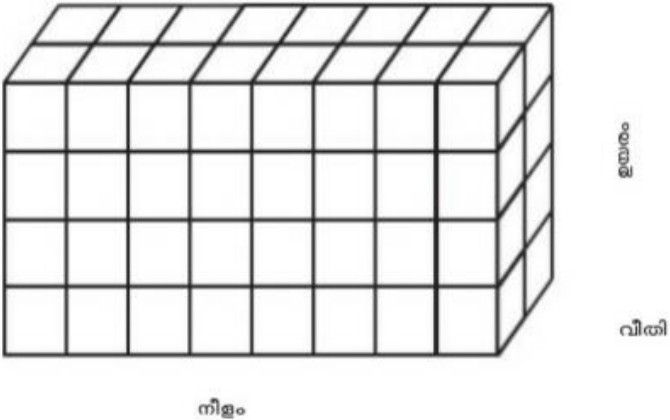
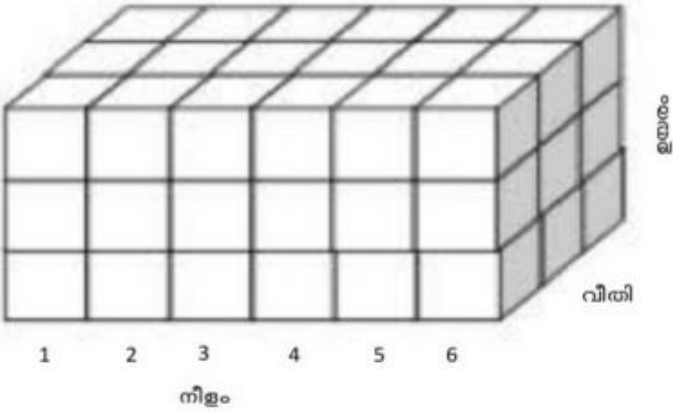
ജില്ലയുടെ പേര് : പാലക്കാട്
 ബി. അർ. സിയാടെ പേര് : ഷൊർണൂർ

സ്റ്റാൻഡേർഡ്	: 6
വിഷയം	: ഗണിതം
യൂണിറ്റ്	: 4
പാഠം	: വ്യാപ്തം
വർക്ക് ഷീറ്റ് നമ്പർ	: 05

ആരംഭം / തുടർച്ച / അവസാനം

വൈറ്റ് ബോർഡ് ഷീറ്റ്

താഴെയുള്ള ചതുരക്കട്ടയിൽ എത്ര ചെറിയ കട്ടകൾ വീതമാണ് നീളത്തിൽ അടുകൂടി വച്ചിരിക്കുന്നത് എന്ന് എണ്ണി നോക്കി അതിനടുത്തുള്ള മേഘത്തിനുള്ളിൽ എഴുതൂ.






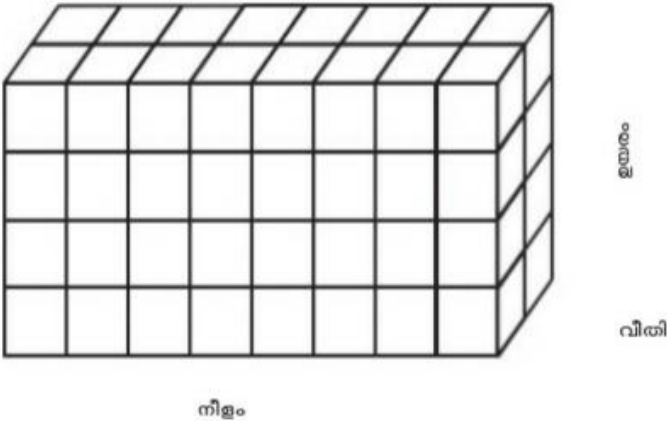
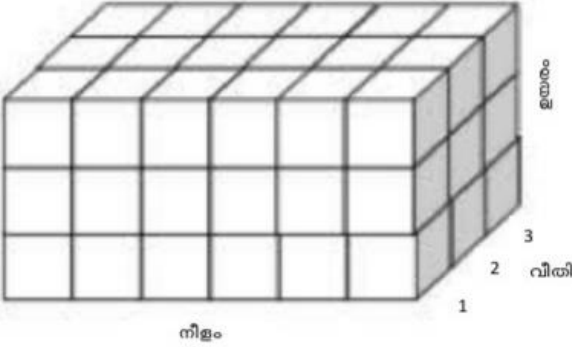
ജില്ലയുടെ പേര് : പാലക്കാട്
ബി. ആർ. സിയുടെ പേര് : ഷൊർണൂർ

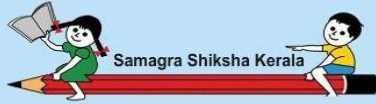
സ്റ്റാൻഡേർഡ്	: 6
വിഷയം	: ഗണിതം
യൂണിറ്റ്	: 4
പാഠം	: വ്യാപ്തം
വർക്ക് ഷീറ്റ് നമ്പർ	: 06

ആരംഭം / തുടർച്ച / അവസാനം

വൈറ്റ് ബോർഡ് ഷീറ്റ്

താഴെയുള്ള ചതുരക്കട്ടയിൽ എത്ര ചെറിയ കട്ടകൾ വീതമാണ് വീതിയിൽ അടുകൂടി വച്ചിരിക്കുന്നത് എന്ന് എണ്ണി നോക്കി അതിനടുത്തുള്ള മേഘത്തിനുള്ളിൽ എഴുതൂ.






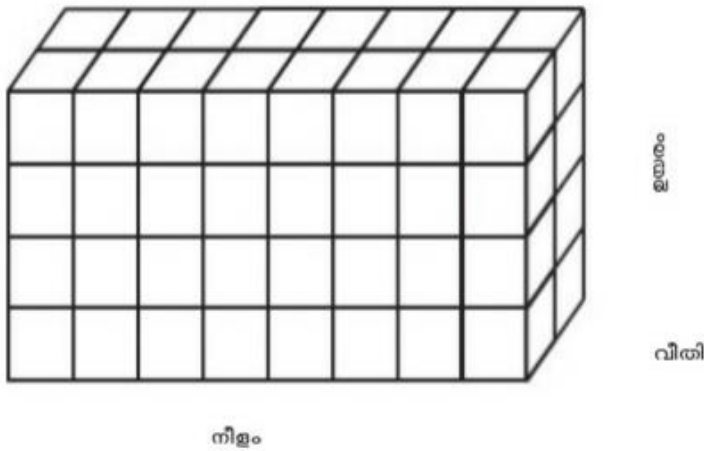

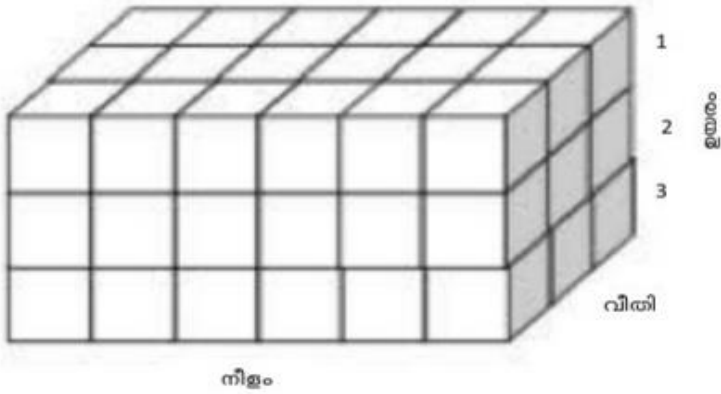
ജില്ലയുടെ പേര് : പാലക്കാട്
ബി. ആർ. സിയുടെ പേര് : ഷൊർണൂർ

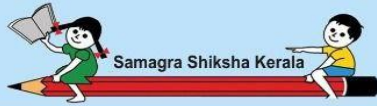
സ്റ്റാൻഡേർഡ് : 6
വിഷയം : ഗണിതം
യൂണിറ്റ് : 4
പാഠം : വ്യാപ്തം
വർക്ക് ഷീറ്റ് നമ്പർ : 07

വൈറ്റ് ബോർഡ് ഷീറ്റ്

ആരംഭം / തുടർച്ച / അവസാനം ✓

താഴെയുള്ള ചതുരക്കട്ടയിൽ എത്ര ചെറിയ കട്ടകൾ വീതമാണ് ഉയരത്തിൽ അടുകൂടി വച്ചിരിക്കുന്നത് എന്ന് എണ്ണി നോക്കി അതിനടുത്തുള്ള മേഘത്തിനുള്ളിൽ എഴുതൂ.





ജില്ലയുടെ പേര് : പാലക്കാട്
ബി. ആർ. സിയുടെ പേര് : ഷൊർണൂർ

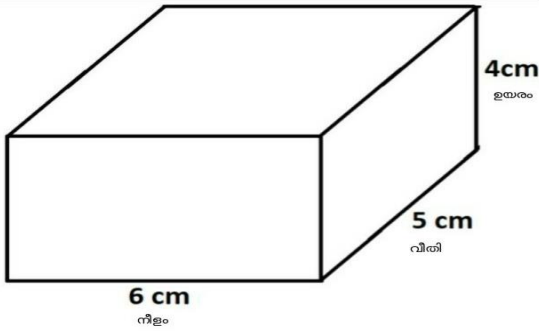
വൈറ്റ് ബോർഡ് ഷീറ്റ്

സ്റ്റാൻഡേർഡ് : 6
വിഷയം : ഗണിതം
യൂണിറ്റ് : 4
പാഠം : വ്യാപ്തം
വർക്ക് ഷീറ്റ് നമ്പർ : 08

ആരംഭം / തുടർച്ച / അവസാനം

ചതുരകട്ടയുടെ വ്യാപ്തം കണ്ടെത്തി അതിനടുത്തുള്ള ബോക്സിൽ എഴുതൂ.

വ്യാപ്തം = നീളം x വീതി x ഉയരം
വ്യാപ്തത്തിന്റെ യൂണിറ്റ്
ഘന സെന്റി മീറ്റർ



നീളം = 6 സെന്റി മീറ്റർ
വീതി = 5 സെന്റി മീറ്റർ
ഉയരം = 4 സെന്റി മീറ്റർ
വ്യാപ്തം = നീളം x വീതി x ഉയരം
= 6 cm x 5 cm x 4 cm
= 120 ഘന സെന്റി മീറ്റർ
=====

